

2. El mapa representa la estructura espacial y densidad industrial de España en 1975. Análcelo y responda a las siguientes preguntas:

- a) Diga el nombre de las Comunidades Autónomas que tienen más de 16 trabajadores/ Km^2 .
(Hasta 1 punto)
- b) Identifique y diga el nombre de las ciudades con más de 50.000 empleos situadas en las Comunidades Autónomas de Galicia, Asturias, Aragón, Castilla y León y Andalucía.
(Hasta 1 punto)
- c) Explique los principales rasgos de la distribución espacial de la industria en España.
(Hasta 2 puntos)

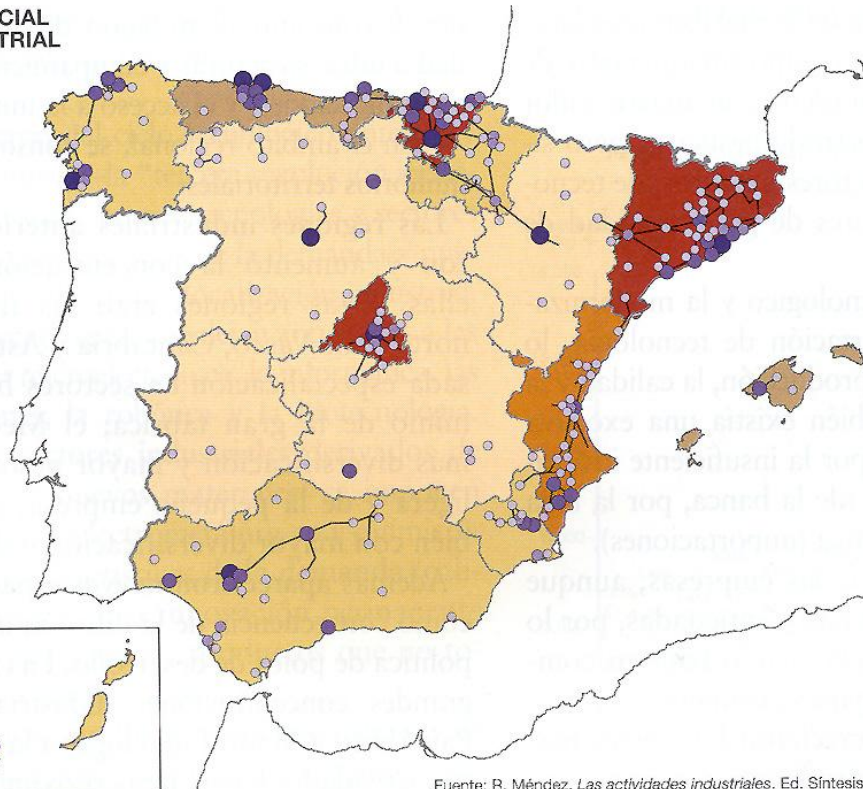
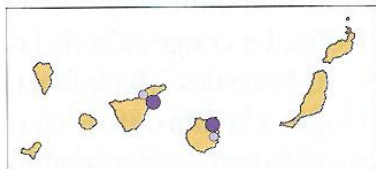

(Valoración: hasta 4 puntos)

**ESTRUCTURA ESPACIAL
Y DENSIDAD INDUSTRIAL
EN 1975**

Trabajadores/ Km^2
Media España = 7,2



Nº de empleos (miles)



Fuente: R. Méndez. *Las actividades industriales*. Ed. Síntesis.